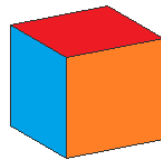

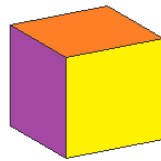


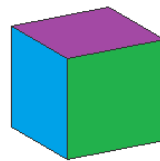
Melyik kockának a hálóját látjuk az alábbi képen?



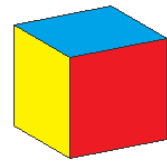
A



B


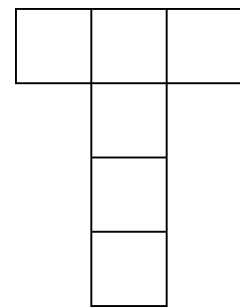
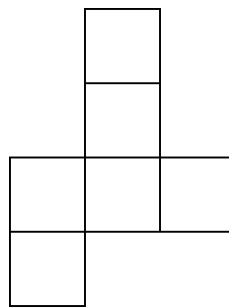



C



D

Feldobtunk háromszor egy kockát, ami ezután három különböző oldalára esett vissza. Az ábrák alapján írd be a megadott hálókba az egymással szemközti oldalak betűjelét.



Egy kocka hat oldalán hat különböző rajz található. Három nézetét már előre megrajzoltuk. Rajzold be a hiányzó képeket az irányokra is ügyelve! Sorold fel, hogy melyek a szemben lévő oldalakon található rajzok?

A kockaháló alapján színezd ki a kockát mind a hat oldaláról nézve.

