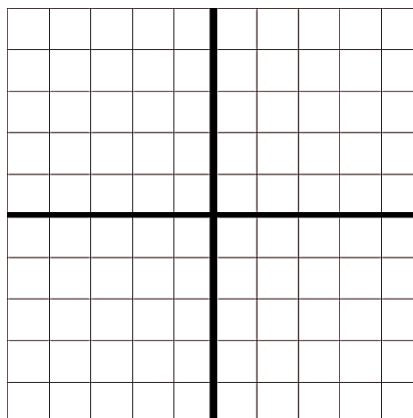
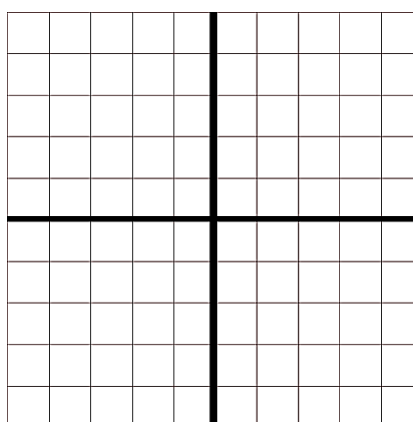


A négyzetrácsba beleírtuk, hogy egy kockából épített alakzathoz hol mennyi és milyen színű kockát használtunk fel. Rajzold meg az alakzat előlnézetét, oldalnézetét és felülnézetét.

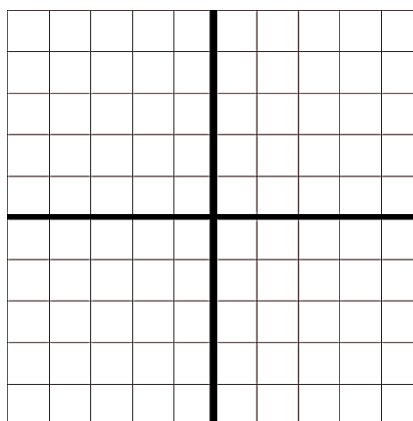
	3	5	
1		3	4
2	1	2	3
		1	2



2	4	3	5
	3	5	2
1	2	3	4
		2	1



		2	4
1	2	4	3
2	1	5	2
1			1



	3	4	
2	2	2	3
	3	2	5
	4	1	2

