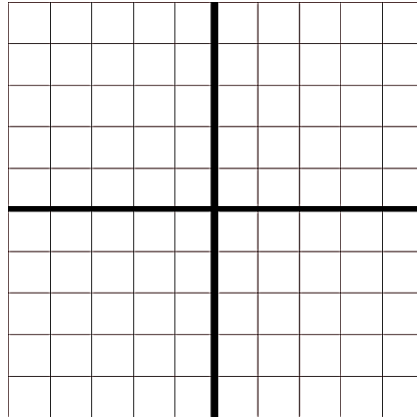
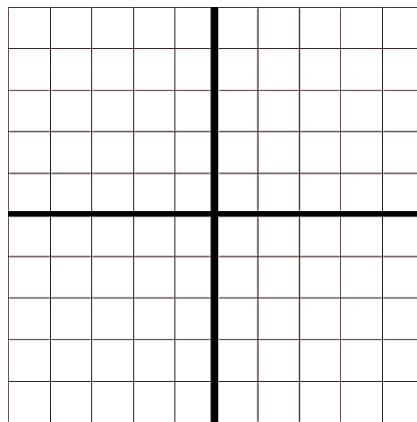


A négyzetrácsba beleírtuk, hogy egy kockákból épített alakzathoz hol mennyi kockát használtunk fel. Rajzold meg az alakzat előlnézetét, oldalnézetét és felülnézetét.

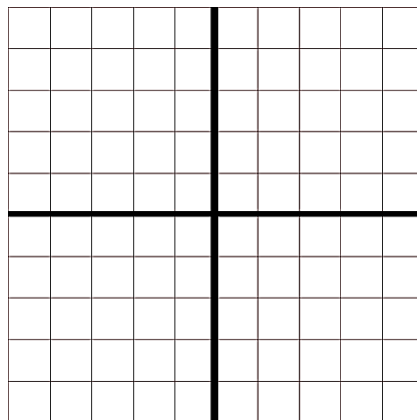
3	2	5	4
	2	5	3
1	2		
	1		



	4	5	
5	3	2	1
	2	4	3
	1	1	2



	3	1	5
3	1	2	
2		5	3
1		3	2



	3	5	
2	2	4	5
2	1	3	1
3		1	

