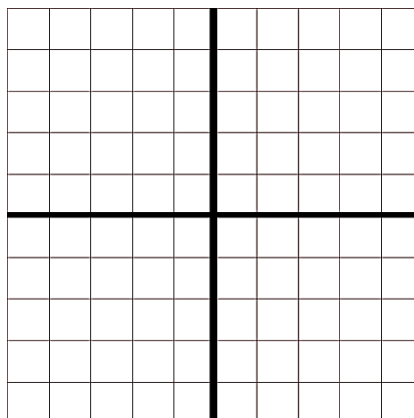
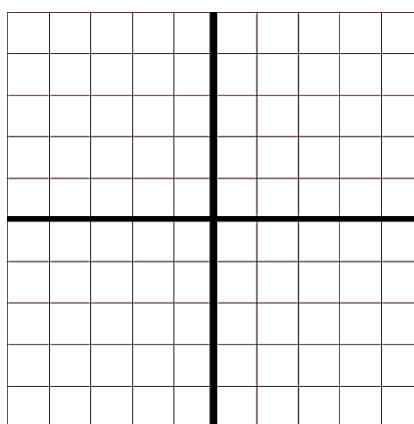


A négyzetrácsba beleírtuk, hogy egy színes kockákból épített alakzathoz hol mennyi és milyen színű kockát használtunk fel. Rajzold meg az alakzat előlnézetét, oldalnézetét és felülnézetét.

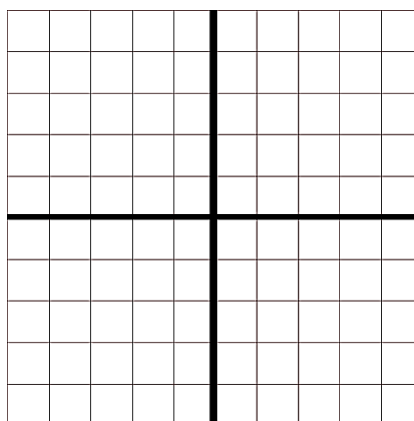
|   |   |   |
|---|---|---|
|   | 3 |   |
| 1 | 5 | 4 |
|   | 2 | 3 |



|   |   |   |
|---|---|---|
|   | 2 | 4 |
|   | 4 | 1 |
| 5 | 3 | 1 |



|   |   |   |
|---|---|---|
| 2 | 4 | 3 |
| 3 |   |   |
| 1 | 5 |   |



|   |   |   |
|---|---|---|
| 1 | 1 | 1 |
| 3 | 4 | 5 |
|   | 2 |   |

