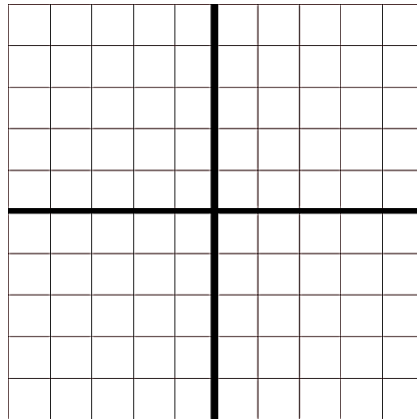
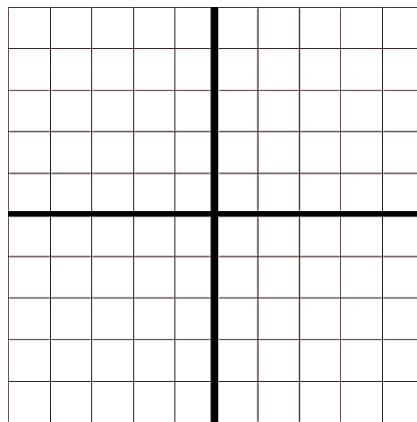


A négyzetrácsba beleírtuk, hogy egy kockából épített alakzathoz hol mennyi kockát használtunk fel. Rajzold meg az alakzat előlnézetét, oldalnézetét és felülnézetét.

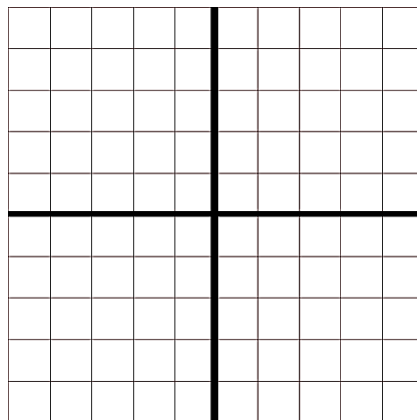
2	3	5
	2	3
1	1	2



1		3
3	2	5
2	4	



3	1	4
1	2	
5		3



	5	
3	2	1
	1	1

